

DIECPD परभणी व शिक्षण विभाग, जिल्हा परिषद, परभणी
अध्ययन निष्पत्ती नैदानिक चाचणी २०१९

वर्ग १ ला

वेळ : १ तास

गुण : २५

विद्यार्थ्यांचे नाव : _____ ह.क्र. ()

शाळेचे नांव : _____ ता. _____ जि.परभणी

चाचणी सोडवण्यापूर्वी सुलभकाने विद्यार्थ्यांना खालील सुचनांप्रमाणे मार्गदर्शन करावे.

सुचना : १) दिलेल्या पर्यायामधून प्रश्नाचे उत्तर शोधण्याबाबत विद्यार्थ्यांना निर्देशित करा.

२) योग्य पर्यायाला गोल करा.

प्रश्नाचे उत्तर कसे नोंदवायचे / गोल करायचे हे विद्यार्थ्यांना फळ्यावर उदाहरण देऊन स्पष्ट करा.

प्रश्न : दिलेल्या ३६, २८, ४१ आणि ५९ या संख्यापैकी कोणती संख्या सर्वात मोठी आहे ?

१) ३६

२) २८

३) ५९

४) ४१

विषय : मराठी

प्रश्न : तोंडी सांगा

१) 'म' या अक्षरापासून सुरू होणारा एक शब्द सांगा. (१०१)

२) शिक्षकांनी पुढील बडबडगीत मुलांना ऐकवून दाखवावे. (१०३)

माऊ करते म्याँव म्याँव

हम्मा हम्मा करत कोण ?

चिऊ करते चिव चिव

में में में में करत कोण ?

काव काव करतो काऊ

कुकुचकू करत कोण ?

भू - भू करून दाखव पाहू

सोंड मोठी हलवी कोण ?

वरील गाण्यातील तुला आवडलेला प्राणी किंवा पक्ष्याचा आवाज काढून दाखव.

३) सोबतच्या चित्राचे योग्य नाव ओळखा (१०४)

१) डबा

२) ढोल

३) छत्री

४) झाड



४) सोबतचे चित्र पाहून रिकाम्या जागी चित्राचे नांव लिहा. (१०५)

वाक्य - ही एक ----- आहे.

१) आगगाडी

२) बैलगाडी

३) घोडागाडी

४) उंटगाडी



(पान क्र. १)

वर्ग : १ ला

[P.T.O.]

- ५) खालीलपैकी 'ँ' (मात्रा) हे चिन्ह असणाऱ्या शब्दाच्या पर्यायाला गोल कर. (१०९)
- १) कैरी २) कोपरा ३) कोल ४) केस
- ६) खालीलपैकी 'शा' अक्षरापासून सुरू होणारा शब्द कोणता आहे ? (१११)
- १) शिकार २) शैसव ३) शामिल ४) शहर
- ७) पुढीलपैकी पूर्णविराम '.' असणारे वाक्य कोणते ? (१०८)
- १) आंबा २) तू कोठे गेला होता ? ३) पाटी, पेन, रबर ४) कलम सरबत कर.
- ८) सोबतच्या चित्रातील पदार्थाची चव सांगा. (११०)
- १) गोड २) कडू
३) तिखट ४) खारट
- ९) सोबतच्या चित्रातील वस्तूचा खालीलपैकी कोणता उपयोग होतो ? (११४)
- १) कापणे २) मोडणे
३) चिरणे ४) तोडणे
- १०) 'अहमदनगर' या शब्दातून तयार न होणाऱ्या शब्दाला गोल करा. (१०३)
- १) अहमद २) गाव ३) नगर ४) मदन




विषय : गणित

- ११) $१३ + २ = \square$ किती ? (१०६)



- १) १४ २) १७ ३) १५ ४) १८
- १२) ६० ही संख्या अक्षरात लिहा ? (११०)
- १) चाळीस २) वीस ३) साठ ४) तीस
- १३) ६ दशक १ एकक = \square (११०)
- १) एकतीस २) एकेचाळीस ३) एकाहत्तर ४) एकसष्ट
- १४) तुझ्याकडे १५ ठोकळे आहेत त्यापैकी ५ ठोकळे रामला दिले तर तुला किती ठोकळे राहिले ? (१०६)
- १) ११ २) ९ ३) १० ४) १२
- १५) गाडीच्या आत माणूस बसला आहे. त्या चित्राच्या पर्यायाला गोल करा (११२)



१६) क्रमवार संख्याचे तोरण पुर्ण करा (१०२)


३१	३२		३४	३५	३६	३७		३९	४०
----	----	--	----	----	----	----	--	----	----

१) ३२, ३६


२) ३३, ३८


३) ३३, ३६

४) ३२, ३७

१७)  (१११)

१) 

२) 

३) 


४) 

१८) कोणता बाण लांब आहे (१०२)

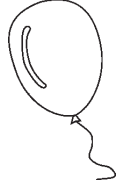
१) 

२) 

३) 

४) 

१९) खालील हलकी वस्तू कोणती (१०२)



१)

२)

३)

४)

२०) यश घरी पुस्तके वाचत होता. बाबा घरी आले पुस्तक वाचताना पाहून त्यांना आनंद झाला. यशला बाबांनी जवळ घेतले. यश बाबाला बोलला सातही पुस्तके वाचून झाली. बाबांनी यशला खुश होऊन आणखी चार पुस्तके दिली तर यशने एकूण किती पुस्तके वाचली ? (१०९)

१) चार

२) पाच

३) तीन

४) सात

विषय : इंग्रजी

21) Listen and act (151) (ऐका आणि कृती करा) (कोणतेही एक)

- 1) Jump on the spot
- 2) Turn around
- 3) Open your eyes

22) How many boats ? (114) (किती जहाज आहेत ?)



- 1) 1
- 2) 3
- 3) 4
- 5) 5


23) Find the odd man out, the word which begins with a different sound. (102)

(खालील शब्दांपैकी ज्या शब्दांचा उच्चार वेगळ्या ध्वनीने सुरु होतो तो शब्द ओळखून त्याला गोल करा)

- 1) Doll
- 2) Doctor
- 3) Table
- 5) Dog

24) Find the picture of Cricket (119)

(क्रिकेट खेळाचे चित्र शोधून त्याला गोल करा.)



25) Find the picture of sleepy face (117)

(चेहऱ्यावर झोपेचा भाव दिसणारे चित्र ओळखून त्याला गोल करा.)

