

DIECPD परभणी व शिक्षण विभाग, जिल्हा परिषद, परभणी  
**अध्ययन निष्पत्ती नैदानिक चाचणी २०१९**

वर्ग २ रा

वेळ : १ तास

गुण : २५

विद्यार्थ्यांचे नाव : \_\_\_\_\_ ह.क्र. ( )

शाळेचे नांव : \_\_\_\_\_ ता. \_\_\_\_\_ जि.परभणी

चाचणी सोडवण्यापुर्वी सुलभकाने विद्यार्थ्यांना खालील सुचनांप्रमाणे मार्गदर्शन करावे.

सुचना : १) दिलेल्या पर्यायामधून प्रश्नाचे उत्तर शोधण्याबाबत विद्यार्थ्यांना निर्देशित करा.

२) योग्य पर्यायाला गोल करा.

प्रश्नाचे उत्तर कसे नोंदवायचे / गोल करायचे हे विद्यार्थ्यांना फळ्यावर उदाहरण देऊन स्पष्ट करा.

प्रश्न : दिलेल्या ३६, २८, ४१ आणि ५९ या संख्यापैकी कोणती संख्या सर्वात मोठी आहे ?

१) ३६

२) २८

३) ५९

४) ४१

विषय : मराठी

१) तोंडी सांगा - (202)

हुरडा कशास म्हणतात ?

२) आवडणाऱ्या एका मराठी महिन्याचे नाव सांगा ? (201)

३) मजेमजेचे रंग कोणाचे आहेत ? (203)

१) ढगांचे

२) पक्षांचे

३) फुलांचे

४) फुलपाखरांचे

४) सुमनने काय पाहिले नव्हते ? (216)

१) वाडी

२) गाव

३) शहर

४) महानगर

५) मुले कशासाठी लढणार आहेत ? (202)

१) देशासाठी

२) गावासाठी

३) राज्यासाठी

४) स्वतःसाठी

६) खालीलपैकी कोणत्या धान्यापासून भाकरी बनवतात ? (201)

१) गहू

२) ज्वारी

३) मटकी

४) हरभरा

७) कोणाची आज्ञा आजारी होती ? (204)

१) नीताची

२) रमेशची

३) समीरची

४) सुमनची

८) कोण म्हणाले ? (205)

“ ही तर जादूच आहे की ! ”

१) संगणक

२) ताई

३) आई

४) तेजल

- ९) पुढील कवितेच्या ओळी वाचून खालील प्रश्नाचे उत्तर लिहा ? (216)  
 या हातांनी शेत पिकवू  
 या हातांनी झाडे उगवू  
 घाम गाळूनी भूमी हिरवीगार करू  
 इवल्या इवल्या हातांनी ध्वज उंच धरू  
 प्रश्न : घाम गाळूनी भूमी कशी करू असे कवी म्हणतो ?  
 १) भुसभुसित २) हिरवीगार ३) कसदार ४) सुपिक
- १०) प्रजासत्ताक दिन कोणत्या तारखेस साजरा करतात ? (204)  
 १) १५ ऑगस्ट २) १ मे ३) १७ सप्टेंबर ४) २६ जानेवारी

विषय : गणित

- ११) ३६, ८६, ६६, २६ या संख्या चढत्याक्रमाने लावल्यास सर्वात आधी येणारी संख्या कोणती ? ( 201.3)  
 १) ३६ २) ६६ ३) २६ ४) ८६
- १२) मी पेरूची १५ रोपे लावली व ताईने पेरूची २२ रोपे लावली तर पेरूची एकूण किती रोपे लावली ? ( 201.5)  
 १) ३६ २) ३५ ३) ७ ४) ३७
- १३) खालील पट्टीतील आकृतीबंध पूर्ण करा. ( 201.5)
- |   |   |   |   |   |   |
|---|---|---|---|---|---|
| □ | △ | ○ | □ | ? | ? |
|---|---|---|---|---|---|
- १) △ ○ २) □ △ ३) ○ △ ४) □ ○
- १४) ३५ ही संख्या पूर्ण करण्यासाठी सागरकडे ३ दशक आहेत. तर त्याला आणखी किती एककाची गरज आहे ? (202.3)  
 १) ५ २) १५ ३) २० ४) १६
- १५) १० रूपयाची एक नोट देवून २ रूपयाची किती नाणी मिळतील ? (210)  
 १) १० २) २ ३) ५ ४) ४
- १६) सानिकाजवळ दशकाच्या २ माळा आणि ३ सुट्टे आहेत त्यापैकी ८ मणी तिने जावेदला दिले तर तिच्याजवळ किती मणी उरले ? (202.3)  
 १) १४ २) १५ ३) १८ ४) १३
- १७) 

●	●	●	●	●
●	●	●	●	●

 सोबतच्या आकृतीत कोणता पाढा आहे. ? ( 209)  
 १) २, ४ वेळा २) २, ५ वेळा ३) २, ६ वेळा ४) २, ७ वेळा

१८) बेरीज करा

$$\begin{array}{r} 69 \\ + 27 \\ \hline \square \end{array}$$

( 201.5)

१) ९८

२) ९६

३) ४२

४) ९१

१९) खालीलपैकी ज्या संख्याची बेरीज २५ येईल अशा दोन संख्या कोणत्या ? (201.4)

१) १५ + ८

२) १६ + ५

३) १५ + १०

४) १९ + ४

२०) १०० रुपये होण्यासाठी २० रू. च्या किती नोटा घ्याव्या लागतील ? (201.7)

१) ४

२) ५



३) ३

४) ७

विषय : इंग्रजी

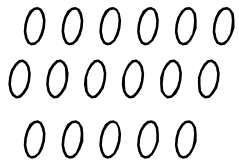
21) Look at the picture and say the word . (209)

( शिक्षक मुलांना वैयक्तिकपणे चित्रे दाखवुन चित्राचे नाव विचारतात. कोणतेही एक )



22) How many drops ? (213)

(चित्रातील पाण्याचे थेंबे मोजा व योग्य पर्यायाला गोल करा )



1) 14

2) 15

3) 16

4) 17

23) Identify the shape &amp; circle the correct option ? (206)

( आकार ओळखून योग्य पर्यायाला गोल करा )

Triangle

१)



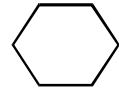
२)



३)



४)



**24) Fill in the blank. (208)**

(रिकाढ्या ङागा भरा.)

The book is ..... the table

- 1) over                      2) at                      3) on                      4) into

**25) Who am I ? (210)**

( शलकुषुक ढुलाना वाचून दाखवतात व पर्यायामधून प्राणी ओळखण्यास सांगतात )

A long trunk

and short tail

Two big ears

who am I ?

- 1) Parrot                      2) Elephant                      3) Rabbit                      4) Buffalo

---

(कच्च्या कामासाठी ङागा)