

DIECPD परभणी व शिक्षण विभाग, जिल्हा परिषद, परभणी

अध्ययन निष्पत्ती नैदानिक चाचणी २०१९

वर्ग ३ रा

वेळ : १ तास

गुण : २५

विद्यार्थ्यांचे नाव : _____ ह.क्र. ()

शाळेचे नांव : _____ ता. _____ जि.परभणी

चाचणी सोडवण्यापूर्वी सुलभकाने विद्यार्थ्यांना खालील सुचनांप्रमाणे मार्गदर्शन करावे.

सुचना : १) दिलेल्या पर्यायामधून प्रश्नाचे उत्तर शोधण्याबाबत विद्यार्थ्यांना निर्देशित करा.

२) योग्य पर्यायाला गोल करा.

प्रश्नाचे उत्तर कसे नोंदवायचे / गोल करायचे हे विद्यार्थ्यांना फळ्यावर उदाहरण देऊन स्पष्ट करा.

प्रश्न : दिलेल्या ३६, २८, ४१ आणि ५९ या संख्यापैकी कोणती संख्या सर्वात मोठी आहे ?

१) ३६

२) २८

३) ५९

४) ४१

विषय : मराठी

१) खालील कवितेच्या ओळी वाचून खालील प्रश्नाच्या योग्य पर्यायाला गोल करा. (३०१)

सुट्टीच्या दिवसांत वाटते,

खुशाल आकाशात उडावे

इंद्रधनूच्या घसरगूंडीवर

खाली - वर, वर-खाली व्हावे

कवितेतील मुलाला आकाशात कसे उडावेसे वाटते ?

१) आनंदाने

२) मजेत

३) बेधुंद

४) खुशाल

२) खालील शब्दाचा योग्य समानार्थी शब्द निवडून पर्यायाला गोल करा. (३०८)

थक्क होणे -

१) थकून जाणे

२) नवल वाटणे

३) घाबरणे

४) थरथर कापणे

३) चूकीच्या पर्यायाला गोल करा. (३०९)

१) वाहनांचा - ताफा

२) पोत्यांची - थप्पी

३) भाजीचा - घड

४) माणसांचा - जमाव

४) 'महाराष्ट्राची राजधानी कोणती' या वाक्याच्या शेवटी कोणते विरामचिन्ह द्याल ? (३१३)

१) !

२) ?

३) .

४) ,

५) खालील संवाद वाचून प्रश्नाच्या योग्य पर्यायाला गोल करा. (३१४)

नंदू : गुरूजी, बंडू लक्ष देत नाही. तो सारखा खिडकीबाहेर पाहतो आहे.

शिक्षक : काय रे, तूला कसं समजलं ?

नंदू : मी सारखा त्याच्याकडे पाहत होतो.

वरील संवादाच्या बाबतीत पुढीलपैकी कोणते विधान अचूक आहे.....

१) बंडू वर्गात लक्ष देतो.

२) नंदू वर्गात लक्ष देतो.

३) बंडू व नंदू एकमेकांच्याकडे पाहतात

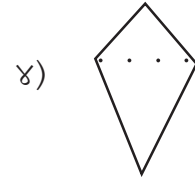
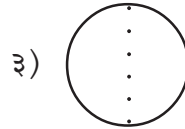
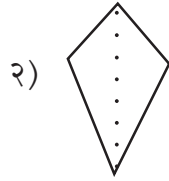
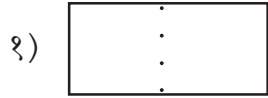
४) नंदूचे अवधान/लक्ष शिक्षकांकडे नाही

विषय : गणित

६) खालील आकृतीबंध पूर्ण करा. (३११)



७) खालीलपैकी कोणती आकृती सममित नाही. (३१२)



८) टेकडीवर २३० गुलमोहराची, ३७५ कडूलिंबाची व १६० सागाची झाडे लावली, तर एकूण किती झाडे लावली ? (३०१)

१) ७६५

२) ४६५

३) ५३५

४) ६६५

९) नंदूजवळ १०० रूपयांच्या ५ नोटा, १० रूपयांच्या दोन नोटा व एक रूपयाची ७ नाणी आहेत.

त्याने सोनूला त्यापैकी ३१८ रूपये दिले, तर त्याच्याजवळ किती रूपये उरले ? (३०१)


१) २०१

२) २०९

३) १०९

४) ३०९

१०) दिलेल्या चित्रामधील चेंडूची एकूण संख्या तुम्ही कशी शोधाल ? (३०१)



१) ३ + ४

२) ३ ÷ ४

३) ३ X ४

४) ३ - ४

विषय : इंग्रजी

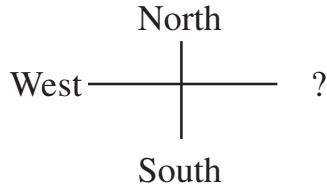
11) Identify the first letter 'F' from the following words. (318)

- 1) shall 2) you 3) three 4) fear

12) You want to enter in the classroom. You will ask..... (315)

- 1) I am come in ?
2) Can I come ?
3) May I come in ?
4) I am come in ?

13) Identify the missing direction (314)



- 1) North 2) South 3) West 4) East

14) Observe the picture and choose the correct option. (316)



- 1) Cold 2) Windy 3) Warm 4) Hot

15) Read the passage and answer the question. (307)

Hema lives in Mumbai. She likes her mother. She prepares various dishes for her. She likes Gulab Jamun. Her father loves her very much.

What does Hema like ?

- 1) Rasmalai 2) Basundi 3) Samosa 4) Gulab Jamun

विषय : परिसर अभ्यास भाग - 9 - अ

- १६) कोणत्या ऋतूत आमरस केला जातो ? (३०५)
१) पावसाळा २) उन्हाळा ३) हिवाळा ४) यापैकी नाही
- १७) दुधापासून तयार होणारा खाद्यपदार्थ कोणता ? (३०३)
१) इडली २) तूप ३) भाकरी ४) भाजी
- १८) डोके आणि धड जोडणाऱ्या शरीराच्या भागास काय म्हणतात ? (३१३)
१) कोपर २) खांदा ३) गळा ४) मान
- १९) आई स्वयंपाकघरात भजी करत आहे हे घराबाहेर असलेल्या शितलला कोणत्या ज्ञानेंद्रियाने समजले ? (३०६)
१) त्वचा २) कान ३) नाक ४) जीभ
- २०) सुरेशच्या वडिलांच्या भावाची बायको सुरेशची कोण लागते. (३०४)
१) मावशी २) काकू ३) ताई ४) आत्या

विषय : परिसर अभ्यास भाग - 9 - ब

- २१) आपल्या देशातील मुख्य व्यवसाय कोणता आहे ? (३१९)
१) मासेमारी २) शेती ३) पोलाद ४) पशुपालन
- २२) आपल्या शाळेत ऑगस्ट महिन्यात आपण कोणता राष्ट्रीय सण साजरा करतो ? (३०३)
१) गुढीपाडवा २) स्वातंत्र्य दिन ३) प्रजासत्ताक दिन ४) महाराष्ट्र दिन
- २३) योग्य कृती निवडा (३०४)
१) राजू वहीची पाने फाडतो. २) सचीन वर्गातील कचरा इतरत्र टाकतो
३) अजय इतरांशी नेहमी भांडतो ४) सीता शाळेत वेळेवर येते.
- २४) खालील विधानांमधून समूहजीवनासाठी आवश्यक नियम शोधा. (३१२)
१) महेश रांग तोडून बसमध्ये चढतो.
२) मीना अंगण झाडतांना कचरा इतरांच्या अंगणात लोटते.
३) इस्माईल घरातील टि.व्ही.चा आवाज खूप मोठा करतो.
४) राजू गळणारा सार्वजनिक नळ बंद करतो.
- २५) सोबतचे चित्र कोणत्या महापुरूषाचे आहे ? (३०७)
१) महात्मा जोतीराव फुले २) कर्मवीर भाऊराव पाटील
३) राजर्षी शाहू महाराज ४) महाराजा सयाजीराव गायकवाड

